



ATIVIDADES COMPLEMENTARES DE ESTUDO – COVID 19

ESCOLA MUNICIPAL DR. VITÓRIO FRANKLIN

PROFESSORA: LUCI ANE FERNANDES TURMA: Sala de Recurso B - Grupo 1

COMPONENTES CURRICULARES: LÍNGUA PORTUGUESA E MATEMÁTICA.

PERÍODO DE REALIZAÇÃO: 10 a 14 de maio DE 2021

NOME : _____

O QUE VOCÊ VAI ESTUDAR:	<ul style="list-style-type: none">➤ <u>Língua Portuguesa</u>: ortografia AM, EM, IM, OM, UM; completar frases, cruzadinha, escrita de frases e textos.➤ <u>Matemática</u>: sistema de numeração, decomposição e sequência numérica.
PARA QUE VAMOS ESTUDAR ESSES CONTEÚDOS?	<ul style="list-style-type: none">➤ <u>Língua Portuguesa</u>: Realizar a leitura de frases para completar, escrever palavras na cruzadinha, frases e texto a partir de um liga pontos.➤ <u>Matemática</u>: Realizar decomposição de números e sequência numérica acima de 100.
COMO VAMOS ESTUDAR OS CONTEÚDOS?	<ul style="list-style-type: none">➤ Lendo e respondendo as atividades propostas pela professora.



ATIVIDADES COMPLEMENTARES DE ESTUDO – COVID 19

LÍNGUA PORTUGUESA: ORTOGRAFIA AM, EM, IM, OM, UM

1-COMPLETE AS FRASES COM AS PALAVRAS ABAIXO:

GAMBÁ LIMPEZA BOMBEIRO OMBRO BOMBOM
CAMPEÃO TROMBA BOMBA TAMBOR ASSOMBRAÇÃO

- A) HIGIENE É O MESMO QUE .
- B) O TEM UM CHEIRO HORRÍVEL.
- C) EU COMI SONHO DE VALSA.
- D) O DO ATLETA É FORTE!
- E) VOCÊ VIU A DO ELEFANTE?
- F) VOVÔ É DE NATAÇÃO.
- G) NA BANDA DA ESCOLA TEM UM .
- H) EU TENHO MEDO DE .
- I) NAS FESTAS JUNINAS EU NÃO BRINCO COM .
- J) O SALVA VIDAS NOS INCÊNDIOS.



ATIVIDADES COMPLEMENTARES DE ESTUDO – COVID 19

PINTE AS LETRAS K, W, Y E COPIE CADA UMA DAS PALAVRAS.

K	A	M	B	U	L	Â	N	C	I	A	K	W	Y
W	I	M	P	O	R	T	A	N	T	E	Y	K	W
T	E	M	P	E	R	A	T	U	R	A	K	Y	W
W	Y	K	W	Y	K	W	S	E	M	P	R	E	K
B	O	M	B	A	K	S	O	M	B	R	A	Y	K
K	A	M	P	A	R	O	Y	P	O	M	B	A	L

DITADO PINTADO

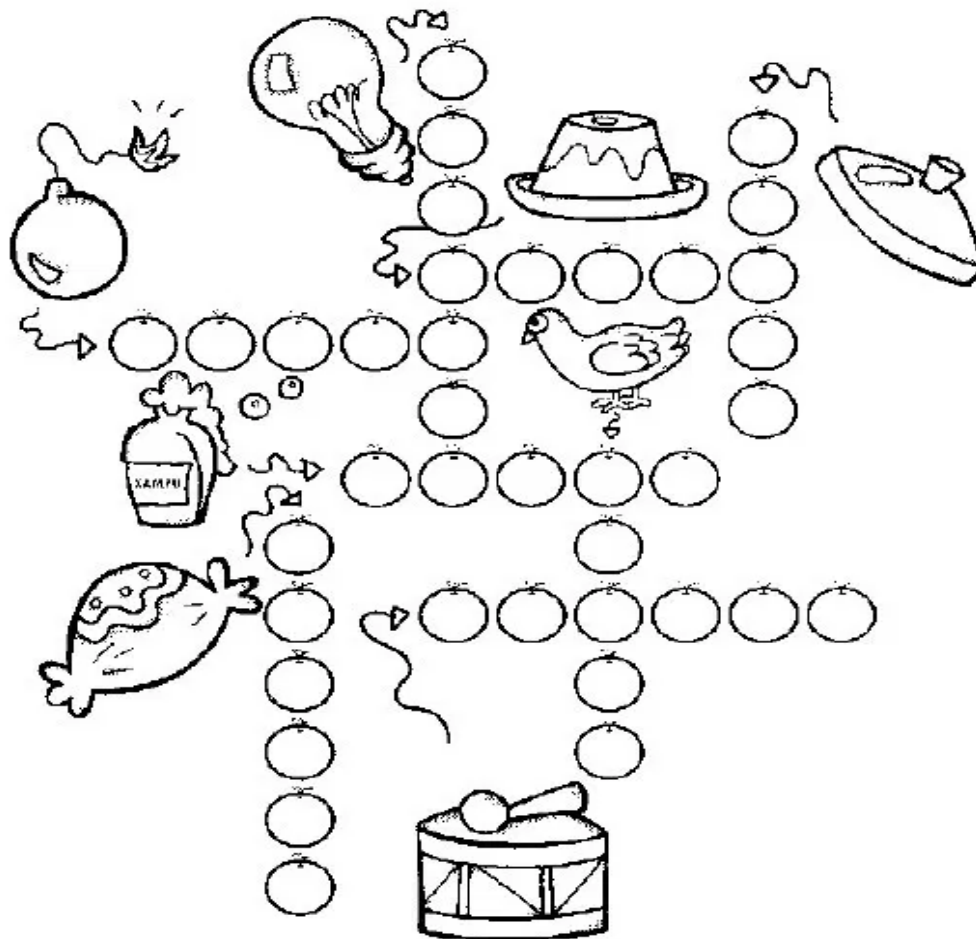
PINTE OS NÔMES DAS FIGURAS ABAIXO:



BOMBA	CONTADOR	COMPUTADOR	AMPOLA
BOMBOM	BOMBEIRO	AMBULÂNCIA	POMBA



CRUZA-BEM













ESCOLHA UM DESENHO E ESCREVA UMA FRASE:



ATIVIDADES COMPLEMENTARES DE ESTUDO – COVID 19

MATEMÁTICA

1- OBSERVE O QUADRO NUMERADO DE 100 A 139, E ABAIXO SUBSTITUA OS SÍMBOLOS PELOS NÚMEROS FALTOSOS:

100		102	103	104	105		107
108	109		111	112	113	114	
116	117	118		120	121		123
	125		127	128		130	131
132	133	134	135	136	137	138	

		<input type="text"/>			<input type="text"/>
		<input type="text"/>			<input type="text"/>
		<input type="text"/>			<input type="text"/>
		<input type="text"/>			<input type="text"/>
		<input type="text"/>			<input type="text"/>

2- DECOMPONHA OS NÚMEROS:

$136 = 100 + 30 + 6$

$136 = 1 \text{ CENTENA} + 3 \text{ DEZENAS} + 6 \text{ UNIDADES}$

a) $128 =$ _____

$128 =$ _____

b) $132 =$ _____



ATIVIDADES COMPLEMENTARES DE ESTUDO – COVID 19

132 = _____

c) 118 = _____

118 = _____

3- LIGUE OS NÚMEROS DE 1 ATÉ 48 E DEPOIS PINTE O DESENHO COM CAPRICO.





ATIVIDADES COMPLEMENTARES DE ESTUDO – COVID 19

4- ESCREVA UM LINDO TEXTO SOBRE A FIGURA DO EXERCÍCIO ANTERIOR:
